






A. Doplň čísla do řady.

	1	2		4		6	7			10
	11			14	15		17	18		
	5	6		8	9	10			13	
	20	19	18		16	15		13		11
	17		15	14			11	10	9	

Co mají společného zvířátka před číselnými řadami? _____



B. Ke zvířatům doplň čísla, která zakrývají.

1		3	4	
	7	8		10
11			14	15
	17	18		20

